

24º ROTEIRO - SRM

PERÍODO DE REALIZAÇÃO: 16 A 19 DE AGOSTO

ALUNO (A): _____ GRUPO 1

TURMA: S.R.M. MANHÃ () - PROFESSORA ANA PAULA S. R GAIA
S.R.M. TARDE () - PROFESSORA CÉLIA REGINA VERRI

**O QUE VOCÊ
VAI ESTUDAR:**

LINGUAGEM: AMPLIAR O VOCABULÁRIO ORAL E ESCRITO, POR MEIO DA ESCRITA DE PALAVRAS, LEITURA E INTERPRETAÇÃO.
LINGUAGEM MATEMÁTICA: TRABALHAR A HABILIDADE DE IDENTIFICAR UNIDADES, DEZENA, CENTENA, COM UTILIZAÇÃO DE RECURSO VISUAL, MATERIAL DOURADO.

**PARA QUE
VAMOS
ESTUDAR
ESSES
CONTEÚDOS?**

- DESENVOLVER A ATENÇÃO E A PERCEPÇÃO VISUAL.
- EXERCITAR A LEITURA E A ESCRITA.
- ESTIMULAR A OBSERVAÇÃO.
- LER E ESCREVER PALAVRAS COM CORRESPONDÊNCIAS REGULARES CONTEXTUAIS ENTRE GRAFEMAS E FONEMAS.
- AMPLIAR VOCABULÁRIO.
- ESTABELECEER A RELAÇÃO DO MATERIAL DOURADO E FAZER COM QUE O ALUNO PERCEBA AS RELAÇÕES ENTRE AS PEÇAS E COMPREENDA AS TROCAS NO SISTEMA DE NUMERAÇÃO DECIMAL.

**COMO VAMOS
REGISTRAR O
QUE
APRENDEMOS?**

REGISTRAREMOS O QUE APRENDEMOS ATRAVÉS DE RESPOSTAS ESCRITAS NA FOLHA DE ATIVIDADES, OBSERVAÇÃO DE TEXTOS E IMAGENS, INTERPRETAÇÃO DE TEXTO E ENUNCIADOS.

LÍNGUA PORTUGUESA

1-LEIA COM ATENÇÃO À QUADRINHA

BATATINHA QUANDO NASCE,
SE ESPARRAMA PELO CHÃO,
A MENINA QUANDO DORME
PÕE A MÃO NO CORAÇÃO.



2-REGISTRE A QUANTIDADE DE PALAVRAS DA PARLENDIA _____

3- MOSTRE SUA ESPERTEZA E DESCUBRA PALAVRAS ESCONDIDAS NA PALAVRA:

BATATINHA _____

4-PINTE DE VERMELHO AS PALAVRAS QUE RIMAM NA QUADRINHA.

5-COMPLETE A QUADRINHA:

QUANDO NASCE,
SE ESPARRAMA PELO
A QUANDO DORME
PÕE A NO .



MATEMÁTICA

UNIDADE
1

DEZENA
10

CENTENA
100


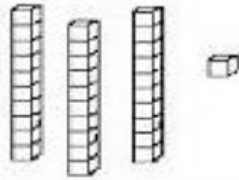


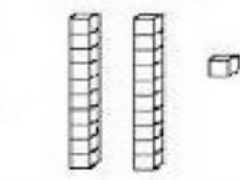


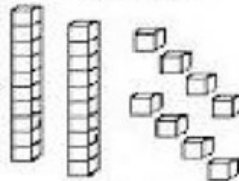


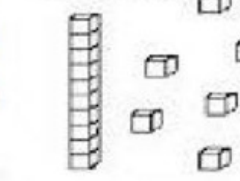








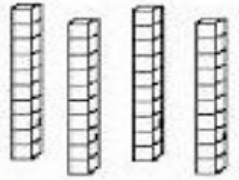


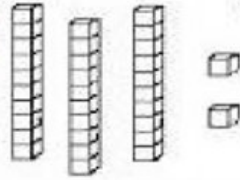

PARA CONHECER MAIS ACESSE:

<https://youtu.be/OreArn3IU4>

TRABALHANDO COM MATERIAL DOURADO – QUEM JUNTA MAIS?

OBSERVE E CONTE A QUANTIDADE DE PEÇAS DE MATERIAL DOURADO QUE ALGUMAS CRIANÇAS CONSEGUIRAM JUNTAR NO JOGO QUEM JUNTA MAIS:

1) COLOQUE O NÚMERO NO QUADRINHO:

 <p>MARIA</p>  	 <p>GABRIEL</p>  
 <p>SAMUEL</p>  	 <p>HELEN</p>  
 <p>BRUNA</p>  	 <p>ANNY</p>  
 <p>EDUARDO</p>  	 <p>JÚLIA</p>  

AGORA, RESPONDA:

A – QUEM FEZ MAIS PONTOS NO JOGO? _____

B - QUEM FEZ MENOS PONTOS NO JOGO? _____

C – QUANTOS PONTOS FEZ MARIA? _____

2) AGORA LIGUE DO 1 AO 10 E PINTE BEM BONITO:

